

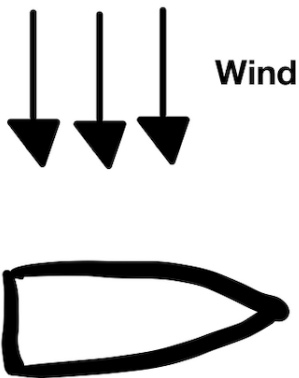
Segeltheorie: Prüfung

Name: _____

Datum: _____

Modul 3: Kurse zum Wind und Segelstellung

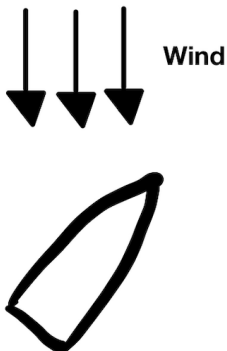
Aufgabe 1) Zeichne die richtige Segelstellung ein, nenne die Bezeichnung für den Kurs zum Wind und beschreibe kurz Kurs und Segelstellung.



Kurs zum Wind:

Beschreibung Kurs & Segelstellung:

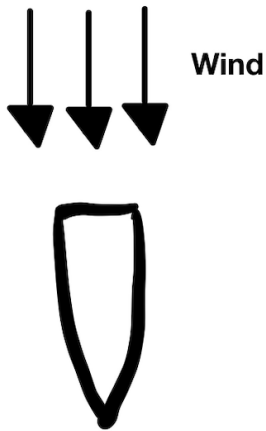
Aufgabe 2) Zeichne die richtige Segelstellung ein, nenne die Bezeichnung für den Kurs zum Wind und beschreibe kurz Kurs und Segelstellung.



Kurs zum Wind:

Beschreibung Kurs & Segelstellung:

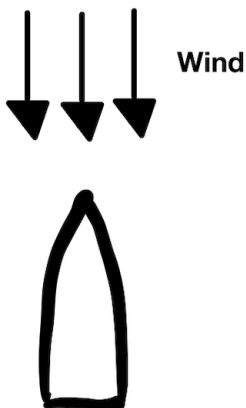
Aufgabe 3) Zeichne die richtige Segelstellung ein, nenne die Bezeichnung für den Kurs zum Wind und beschreibe kurz Kurs und Segelstellung.



Kurs zum Wind:

Beschreibung Kurs & Segelstellung:

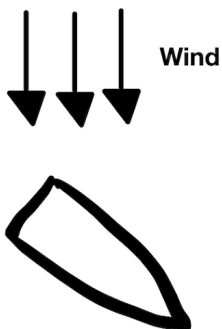
Aufgabe 4) Zeichne die richtige Segelstellung ein, nenne die Bezeichnung für den Kurs zum Wind und beschreibe kurz Kurs und Segelstellung.



Kurs zum Wind:

Beschreibung Kurs & Segelstellung:

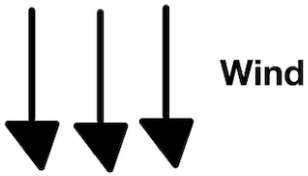
Aufgabe 5) Zeichne die richtige Segelstellung ein, nenne die Bezeichnung für den Kurs zum Wind und beschreibe kurz Kurs und Segelstellung.



Kurs zum Wind:

Beschreibung Kurs & Segelstellung:


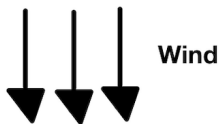
Aufgabe 6) Zeichne die richtige Segelstellung ein, nenne die Bezeichnung für den Kurs zum Wind und beschreibe kurz Kurs und Segelstellung.



Kurs zum Wind:

Beschreibung Kurs und Segelstellung:


Aufgabe 7) Zeichne die richtige Segelstellung ein, nenne die Bezeichnung für den Kurs zum Wind und beschreibe kurz Kurs und Segelstellung.



Kurs zum Wind:

Beschreibung Kurs & Segelstellung:

Aufgabe 8) Zeichne die richtige Segelstellung ein, nenne die Bezeichnung für den Kurs zum Wind und beschreibe kurz Kurs und Segelstellung.



Kurs zum Wind:

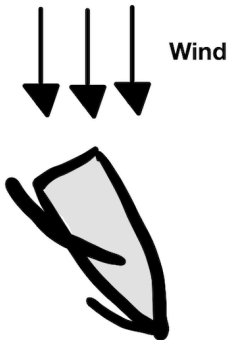
Beschreibung Kurs & Segelstellung:

Aufgabe 9) Wie heißen die beiden wichtigsten Segel an einem Segelboot?

1.Segel:

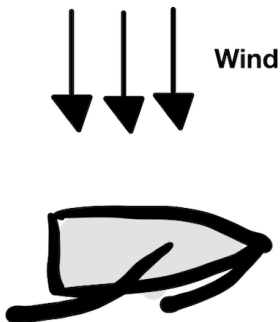
2.Segel:

Aufgabe 10) Welche Gefahren bestehen bei dieser Segelstellung?



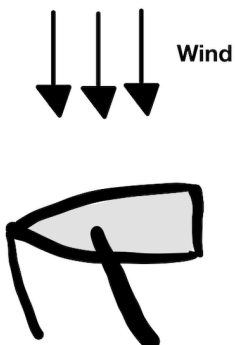
Gefahren:

Aufgabe 11) Welche Gefahren bestehen bei dieser Segelstellung?



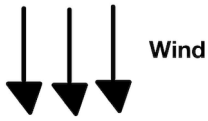
Gefahren:

Aufgabe 12) Welches Problem könnte es bei dieser Segelstellung geben?



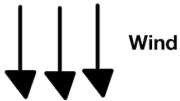
Mögliches Problem:

Aufgabe 13) Beschreibe diese Segelstellung.



Beschreibung:

Aufgabe 14) Zeichne den Bereich um das Boot ein, in dem man nicht segeln kann, weil die Segel vom Wind nicht angeströmt werden können.



Beschreibung:

Aufgabe 15) Wie heißt das Manöver, wenn man das Boot mit dem Bug in den Wind dreht, um es dort in Position zu halten?

Name des Manövers:

Bewertung:

Punkte: / 32	Wiederholen: ○	Bestanden: ○	Prüfer:
------------------------	--------------------------	------------------------	----------------